

Nume: _____

Data: _____

TEST DE EVALUARE FINALĂ

Matematică și explorarea mediului Clasa pregătitoare


1. Continuă șirul de numere.

0 1 2 _____

2. Continuă șirul, numărând în ordine descrescătoare.

30 29 28 _____

3. Numără fluturașii și scrie câți sunt.





4. Scrie vecinii numerelor.

8 _____ 10 20 _____ 22 _____ 13 _____ _____ 19 _____
_____ 29 _____ _____ 11 _____ 29 _____ _____ 31 _____ _____

5. Încercuiește numărul cel mai mare din fiecare pereche.

6 9 11 10 21 31 18 28

6. Efectuează operațiile.



7. Câți lei are Mihai ?





8. Realizează corespondența între cuvânt și imaginea fiecărui anotimp.

TOAMNA

PRIMĂVARA

IARNA

VARA



9. Scrie zilele săptămânii în ordine corectă.

MARȚI

SÂMBĂȚĂ

JOI

VINERI

LUNI

DUMINICĂ

MIERCURI

10. Scrie cât este ora.

